

این فایل از کانال معلم یار سوم دانلود شده است.
برای حمایت از ما و دریافت نمونه سوالات با پاسخنامه بیشتر
در تلگرام آی دی زیر را جست و جو کنید

معلم یار سوم

نمونه سوال با پاسخنامه

درسنامه

فیلم های آموزشی

فیلم حل تعارین کتاب درسه

گام به گام

جزوه

برای دریافت مطالب کافیه عضو کانال معلم یار سوم

به آدرس: ▼▼

➤ @MoallemYariR3

بشید

ورود به کانال اصلی لمس کنید

در صورت قطع کله اینترنت کشور!

دوباره برمیگردم به سایت معلم یار و مطالب جدید و پایه به پایه تو سایت میفرستم



WwW.MoallemYar.iR



WwW.6Paye.iR





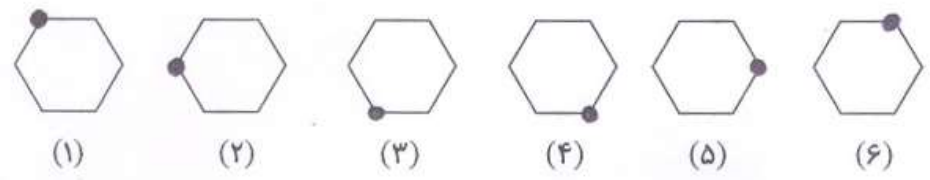
۱. نوع عمل را مشخص کنید و به دست آوردن جواب لازم نیست.

قیمت یک نان ۶۰۰ تومان است و هر یک مسجد برای سفره ی افطاری ۳۴۰ عدد نان تهیه شده است. چند تومان بابت خرید نان پرداخت گردید؟

۲. شکل های زیر با ترتیب و الگوی مشخص می باشد. شکل هشتم مانند شکل دوم است.

الف) شکل دهم مانند شکل چندم است؟

ب) شکل دوازدهم مانند شکل چندم است؟



۳. علامت مناسب بگذار.

الف) $۵۰ + ۷۰ \square ۱۴۰$ ب) $۸۸۴ - ۲۳۰ \square ۶۱۴$ ج) $۶۸۴ + ۳۶۷ \square ۲۰۱۳$

۴. با توجه به محور هر یک از عددها بین کدام دو عدد قرار دارد؟



(۷۰۶۰) (۵۸۷۴)
 ..
 (۲۹۸۰)

۵. عدد بزرگ هر دسته را زیر آن بنویس.

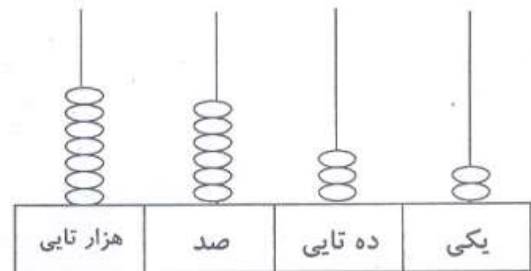
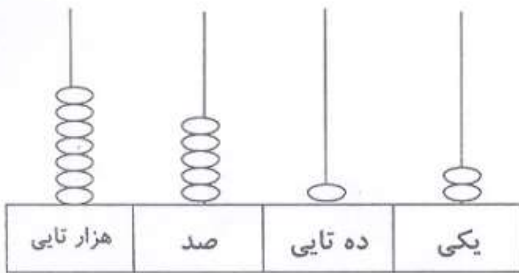
۸۳۰۹	۷۸۴۰
۸۳۹۰	۴۸۷۰
۸۰۳۹	۸۷۴۰
_____	_____



۶. عددها را از کوچک به بزرگ مرتب کن.



۷. عدد شکل ها را بنویس و مقایسه کن.



۸. حاصل جمع و تفریق ها را پیدا کن (به صورت تقریبی به دست آور)

$$\begin{array}{r} 5629 \\ + 2292 \\ \hline \end{array}$$

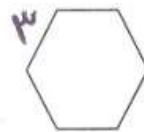
$$\begin{array}{r} 8376 \\ - 1244 \\ \hline \end{array}$$

۹. محیط هر یک از شکل ها را با نوشتن ضرب و جمع بنویس.



جمع:

ضرب:



جمع:

ضرب:



جمع:

ضرب:

پیام:

فارسی: ۷ جمله به صورت نامرتب توسط والدین گرامی در دفتر مشق نوشته شود تا دانش آموز این جملات را مرتب کند و بنویسد.
ریاضی: ضرب ۲ و ۳ به همراه محور نوشته و کشیده شود. صفحه ۹۸ و ۹۹ کتاب ریاضی حل شود.
علوم: درس ۳ و ۴ مکمل علوم با دقت مطالعه شود و توسط والدین پرسیده شود.

ساعت شروع تکلیف:	ساعت پایان تکلیف:	ساعت مطالعه:	ساعت خواب:	امضا ولی
				نظریه آموزگار:



۱. نوع عمل را مشخص کنید و به دست آوردن جواب لازم نیست.

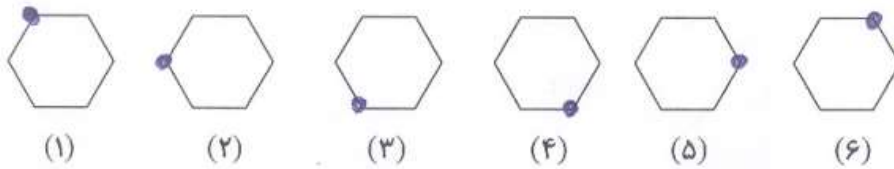
قیمت یک نان ۶۰۰ تومان است و هر یک مسجد برای سفره ی افطاری ۳۴۰ عدد نان تهیه شده است. چند تومان بابت خرید نان

پرداخت گردید؟ **جواب: ۳۴۰ هزار و ۴۰۰ تومان**

۲. شکل های زیر با ترتیب و الگوی مشخص می باشد. شکل هشتم مانند شکل دوم است.

الف) شکل دهم مانند شکل چندم است؟ **الگوی شماره ۴**

ب) شکل دوازدهم مانند شکل چندم است؟ **الگوی شماره ۹**




۳. علامت مناسب بگذار.

$1051 < 684 + 367$

$954 > 884 - 230$

$140 < 50470$

۴. با توجه به محور هر یک از عددها بین کدام دو عدد قرار دارد؟



7000	7060	8000	5000	5874	4000
2000	2980	3000			

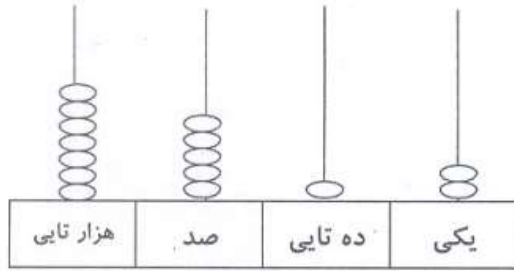
۵. عدد بزرگ هر دسته را زیر آن بنویس.

۸۳۰۹	۷۸۴۰
۸۳۹۰	۴۸۷۰
۸۰۳۹	۸۷۴۰
<u>۸۳۹۰</u>	<u>۸۷۴۰</u>

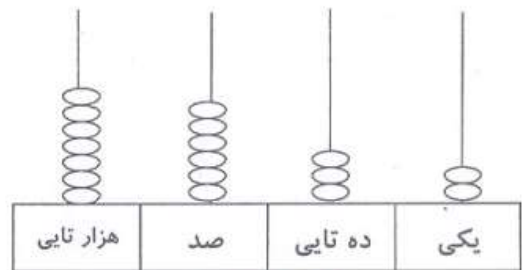
۶. عددها را از کوچک به بزرگ مرتب کن.



۷. عدد شکل ها را بنویس و مقایسه کن.



۷۵۱۲



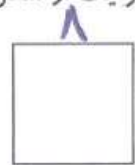
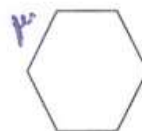
۷۴۳۲

۸. حاصل جمع و تفریق ها را پیدا کن (به صورت تقریبی به دست آور)

$$\begin{array}{r} 5629 \rightarrow 5600 \\ + 2292 \rightarrow + 2200 \\ \hline 7800 \end{array}$$

$$\begin{array}{r} 8376 \rightarrow 8300 \\ - 1244 \rightarrow - 1200 \\ \hline 7100 \end{array}$$

۹. محیط هر یک از شکل ها را با نوشتن ضرب و جمع بنویس.



جمع: $4 + 4 + 4 + 4 = 16$ جمع: $3 + 3 + 3 + 3 + 3 + 3 = 18$ جمع: $1 + 1 + 1 + 1 = 4$

ضرب: $4 \times 4 = 16$ ضرب: $3 \times 6 = 18$ ضرب: $4 \times 1 = 4$

پیام:

فارسی: ۷ جمله به صورت نا مرتب توسط والدین گرامی در دفتر مشق نوشته شود تا دانش آموز این جملات را مرتب کند و بنویسد.
ریاضی: ضرب ۲ و ۳ به همراه محور نوشته و کشیده شود. صفحه ۹۸ و ۹۹ کتاب ریاضی حل شود.
علوم: درس ۳ و ۴ مکمل علوم با دقت مطالعه شود و توسط والدین پرسیده شود.

ساعت شروع تکلیف:	ساعت پایان تکلیف:	ساعت مطالعه:	ساعت خواب:	امضا ولی
				سوالات مورد اشکال