



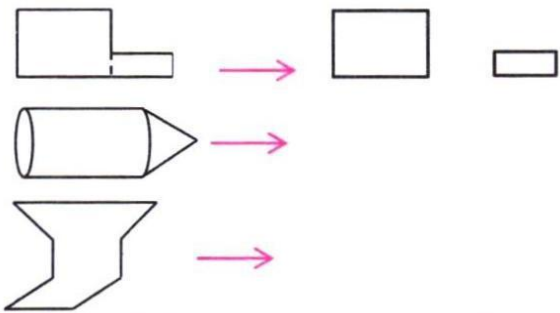
پایه سوم

دبستان پسرانه غیر دولتی طلوع مهر

نام و نام خانوادگی:

# هفته نامه شماره ۱۹ - ریاضی

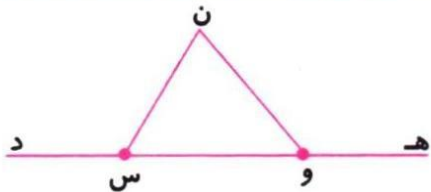
۱- شکل های زیر از قطعه های مختلفی درست شده اند. مانند نمونه، این قطعه ها را جدا کن.



۲- قطرهای هر شکل را بکش و مانند نمونه، جدول زیر را کامل کن.

| شکل | نام    | تعداد اضلاع | تعداد زاویه ها | تعداد قطر ها |
|-----|--------|-------------|----------------|--------------|
|     |        |             |                |              |
|     |        |             |                |              |
|     |        |             |                |              |
|     |        |             |                |              |
|     |        |             |                |              |
|     | ۴ ضلعی | ۴ ضلع       | ۴ زاویه        | ۲ قطر        |

۳- در شکل زیر، یک خط راست و یک پاره خط و یک نیم خط نام ببر.



خط : .....

پاره خط : .....

نیم خط : .....

۴- مسئله ی زیر را به مسئله های کوچک تر تبدیل کن و آن ها را حل کن.

\* سپیده چهار جعبه ی ۳ تایی شکلات و سیما پنج جعبه ی ۴ تایی شکلات دارد. آن ها روی هم چند شکلات

دارند؟

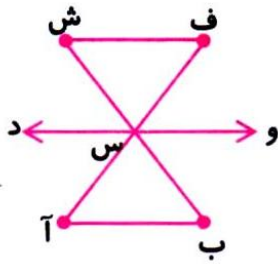
الف) .....

ب) .....

ج) .....



## ریاضی: فصل ۵ (خط - نیم خط - پاره خط)



۱- در شکل مقابل، چند پاره خط و چند نیم خط می بینی؟ (نام ببر.)

➤ پاره خط : .....

➤ نیم خط : .....



۲- یک شکل بکشید که ۵ قطر داشته باشد.

۳- اندازه‌ی کدام خط را می‌توانید مشخص کن؟ چرا؟



۴- با توجه به شکل مقابل، به سؤالات زیر پاسخ بده.



الف) شکل را نام گذاری کنید و بخوان و بنویس. ....

ب) چند زاویه‌ی راست دارد؟ ..... (مشخص کن.)

ج) چند قطر دارد؟ ..... (قطرهایش را رسم کن.)

۵- دایره‌ای به شعاع ۲ سانتی‌متر رسم کن.

قطر این دایره چند سانتی‌متر است؟ .....

با رنگ قرمز مشخص کن.

